

Aufgaben Geografie Klasse 9a für die 5. und 6. Schulwoche

Thema 1: Klima und Vegetation in den USA

1. Lest den Text LBS12 und notiert stichpunktartig die wichtigsten Informationen!
2. Löst in Partnerarbeit LBS13A1!
3. Löst das Arbeitsblatt zum Klima in Nordamerika!
4. Suche in deinen Unterlagen Klassenstufe 7 oder in den Minilexika der Gg-Lehrbücher die Definitionen von Klima, Klimafaktor, Klimazone und Vegetationszone heraus und notiere diese in deinen Hefter!!!
5. Erstelle eine Kartenskizze zu den Vegetationszonen der USA!
Nutze dazu den Atlas (Vegetationszonen der Erde)!
Vergiss die Legende nicht!
Arbeite mit unterschiedlichen Signaturen (Farben und Symbole)!
Arbeite sorgfältig und genau!

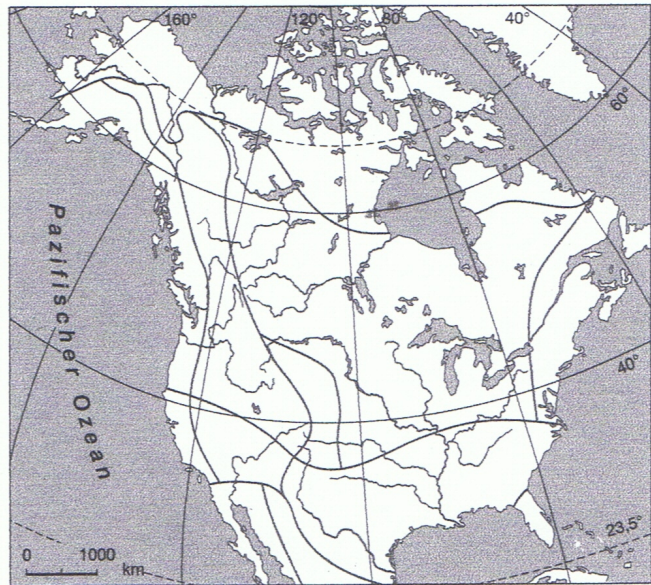
Thema 2: Wetterextreme in den USA

1. Erläutere, warum es in den USA zu Wetterextremen kommt! Nenne dazu die Gründe! Lies dazu den Text LBS14 und notiere diese Gründe!
2. Übernimm dir die thematische Karte LBS14M2 in deinen Hefter!
3. Teilt euch in Dreiergruppen ein!
Erarbeitet mit Hilfe des LBS15 die Themen:
Blizzards, Northers
Tornados
Hurrikans
in Einzelarbeit!
Tragt anschließend die Ausarbeitungen euren beiden anderen Gruppenmitgliedern vor!
Notiert euch die Kernaussagen!
4. Kartenarbeit - Nenne, unter Zuhilfenahme des Atlas, Bundesstaaten, die besonders von Tornados betroffen sind! Eine Hilfe findest du im LBS15M6!

USA – Klima

1. Kennzeichne mithilfe einer geeigneten Atlaskarte in der Kartenskizze die Klimazonen der USA. Erarbeite dazu eine Legende.

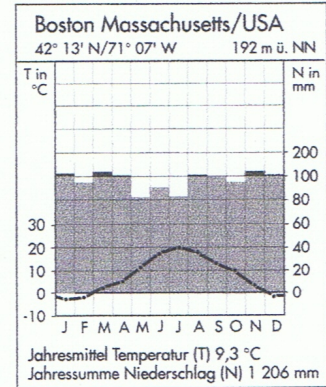
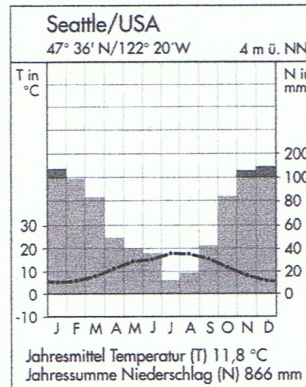
<input type="checkbox"/>	_____	<input type="checkbox"/>	_____
<input type="checkbox"/>	_____	<input type="checkbox"/>	_____
<input type="checkbox"/>	_____	<input type="checkbox"/>	_____
<input type="checkbox"/>	_____	<input type="checkbox"/>	_____
<input type="checkbox"/>	_____	<input type="checkbox"/>	_____



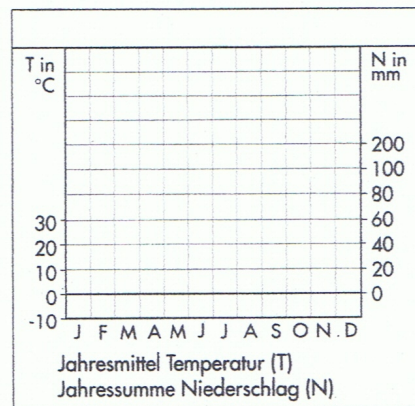
2. Ordne die Klimadiagramme den Klimazonen zu.

① _____

② _____



3. Zeichne das Klimadiagramm von Salt Lake City (41° N, 112° W, 1 226 m ü. NN). Nenne die Klimazone.



	J	F	M	A	M	J	J	A	S	O	N	D
T °C	-2	1	5	10	15	19	25	24	18	12	3	0
N mm	34	30	40	45	36	25	15	22	13	29	33	32

4. Nenne unterschiedliche klimatische Gegebenheiten zwischen Europa und den USA. Notiere Ursachen.
